

160 سؤال

معلم فصل - المرحلة الابتدائية

مسابقة 30 ألف معلم



**إعداد وتجميع وتنسيق
السيد السحراوى**

sayed18.8.18@gmail.com

Port Said

01227012607

معلم فصل

١- " تحاب الرجال فتسابقوا إلى الخيرات " .
الصيغة الصرفية (تفاعل) في الجملة السابقة تدل على :

- (ب) الطلب .
(د) المبالغة .

(أ) المشاركة .
(ج) المطاوعة .

٢- " وإنهم عندنا لمن المصطفين الأخيار " . كلمة (المصطفين) في الآية الكريمة :

(ب) اسم مقصور يدل على الجمع .

(د) اسم منقوص يدل على المفرد .

(أ) اسم منقوص يدل على الجمع .

(ج) اسم مقصور يدل على المثنى المذكور .

٣- إذا كان س + ص + ع = ٢٨ + س + ص = ٢٣ + ص + ع = ١٣ ؛ فإن ص =

(أ) ١٢ .

(ب) ١٥ .

(د) ٥ .

(ج) ٨ .

٤- العالمان يتسلمان الجائزة . كلمة (العالمان) تعرب :

(ب) فاعل مقدم مرفوع، وعلامة رفعه الضمة .

(د) مبتدأ مرفوع، وعلامة رفعه الألف .

(أ) فاعل مقدم مرفوع، وعلامة رفعه الألف .

(ج) مبتدأ مرفوع، وعلامة رفعه الضمة .

٥- اقرأ ثم أجب : كتبت عبارة على السبورة وطلبت من أحد تلاميذك قراءتها، فنطقها كالتالي :
" هذا القميص ذو كُم كسير، وذلك ذو كُم تويل " . يقصد " القميص " و " قصير " و " طويل " .
هذا التلميذ أخطأ ؛ لأنه :

(ب) خلط بين حروف متباعدة في الرسم .

(د) خلط بين حروف متقاربة في المخرج .

(أ) خلط بين حروف متقاربة في الرسم .

(ج) خلط بين حروف متباعدة في المخرج .

٦- عدد محاور تماثل الدائرة :

(أ) محوران .

(ب) عدد غير منته من المحاور .

(د) محور واحد .

(ج) ثلاث محاور .

٧- الخلط بين همزتي الوصل والقطع نطقاً، وعدم إخراج الأصوات من مخرجها الصحيحة، وعدم تغيير الصوت بما يناسب المعنى . جميع ما سبق من الأخطاء الشائعة في :

(ب) الكتابة .

(د) القراءة الصامتة .

(أ) القراءة السريعة .

(ج) التحدث .

٨- وقع أحد تلاميذك في هذه الأخطاء :

- هذه الهدية من أبوك عبد الله .

- تقدم للمسابقة ثلاثين تلميذاً، نجح منهم تلميذين .

هذا التلميذ بحاجة إلى تدريبات في :

(أ) المعرب والمبنى .

(ب) المعربات بعلامات فرعية .

(ج) المعربات بعلامات أصلية .

(د) الضمائر المتصلة .

٩- اقرأ ، ثم اختر الصواب فيما يلي :

- يقدم نفسه أو غيره للآخرين .

- يعبر صوتياً عن المعنى .

- يوظف الإيماءات والإشارات وتعبيرات الوجه .

المهارات السابقة تنتمي إلى أحد فنون الأداء اللغوي هو فن

(ب) التحدث .

(د) الاستماع .

(أ) القراءة .

(ج) الكتابة .

١٠- إذا كان احتمال نجاح تلميذ في أحد الاختبارات هو ٧٨%؛ فإن احتمال رسوبه هو :

(ب) $\frac{11}{25}$

(أ) $\frac{22}{100}$

(د) $\frac{22}{78}$

(ج) $\frac{78}{100}$

١١- " اشماز المارة من منظر القمامة " .

- كلمة (اشماز) على وزن

(ب) افعال .

(أ) أفعال .

(د) افعال .

(ج) افعل .

١٢- الكلمات التي تأتي على بنية (مفعول) تدل على : من

(أ) قام بالفعل بكثرة (اتصف بالفعل مطلقاً) .

(ب) وقع عليه الفعل .

(د) قام بالفعل أو اتصف به .

(ج) اضطر لفعل شيء ما .

١٣- " وقفت الطالبات بانتظام في طابور الصباح " .

كلمتا (وقفت) و(الطالبات) على الترتيب تدلان على

(ب) التأنيث، والفعلية، والخطاب، والتكثير .

(أ) المضى، والتأنيث، والخطاب، والإفراد .

(د) الفعلية، والتأنيث، والاسمية، والجمع .

(ج) التأنيث، والحضور، والاسمية، والخطاب .

١٤- اقرأ، ثم اختر الصواب :

لا يكون العير مهراً لا يكون المهر مهر

موضع الوقف الصحيح الذي يتحقق به المعنى في البيت السابق هو الوقف

(أ) على (الراء) في كلمة (العير) في الشطر الأول .

(ب) بالمد على كلمة (مهراً) في آخر الشطر .

(ج) على (النون) في (لا يكون) في أول الشطر الثاني .

(د) على (النون) في (لا يكون) في أول البيت .

١٥- " اكتبى يا سعاد الدرس " .

في الجملة السابقة ياء الفاعلة في (اكتبى) من ضمائر

(ب) النصب فقط .

(أ) الرفع فقط .

(د) النصب والرفع .

(ج) النصب والجر .

١٦- هو : نون ساكنة منطوقة غير مكتوبة تلحق آخر حرف في الكلمة. ما سبق تعريف لظاهرة صوتية هي :

(أ) الإدغام .

(ب) التنوين .

(د) المد .

(ج) الإمالة .

١٧- اقرأ، ثم اختر الصواب :

فن من فنون الأداء اللغوى يقتضى معرفة الرموز اللغوية، والتمييز بينها في أشكالها وأوضاعها المختلفة، فضلاً عن

التمكن من جميع مهارات إنتاج اللغة وتلقيها من خلاله يتواصل الحاضر بالماضى والقريب بالبعيد .

هذا الفن هو

(ب) الاستماع .

(أ) التحدث .

(د) الكتابة .

(ج) القراءة .

١٨- القيمة المكانية للرقم ٠ في العدد ٩٨،٢٧٠،٣ هي :

(ب) جزء من مائة .

(أ) ثلاثة أجزاء من عشرة .

(د) جزء من عشرة .

(ج) جزء من ألف .

١٩- إذا كان ل أصغر عامل أولى للعدد ٣٨، ن أصغر عامل أولى للعدد ٩٣؛ فإن قيمة ل × ن =

(ب) ٢ .

(أ) ٦ .

(د) ٤ .

(ج) ٥ .

01227012607
السيد السحراوى



(حيث $\frac{22}{7} = \pi$)

(ب) ٣,٥ .

(د) ١٠,٥ .

٢٠- في الشكل المقابل :

مربع محيطه ٢٨ سم، أضلاعه تماس الدائرة
فإن مساحة المنطقة المظللة تساوي سم^٢

(أ) ٦ .

(ج) ١٤ .

٢١- إذا كان أ ب ج د مربع فيه : أ (٧،١)، ج (١،٩) فإن مساحة
المربع أ ب ج د تساوي وحدة مساحة .

(ب) ١٢٨ .

(د) ٣٢ .

(أ) ١٦ .

(ج) ٦٤ .

٢٢- يجري رامى ٤ لفات حول ملعب كرة القدم في نفس الوقت الذى يمكن وليد الجرى ٣ لفات؛ عندما يجرى وليد
١٢ لفة. كم لفة يجريها رامى ؟

(ب) ٩ .

(د) ١٦ .

(أ) ١١ .

(ج) ١٣ .

٢٣- " التلميذ المجتهد يحب المذاكرة " .
جملة " يحب المذاكرة " تعرب : جملة فى محل

(ب) رفع بدل .

(د) رفع خبر .

(أ) رفع نعت .

(ج) رفع مبتدأ .

٢٤- قالت المعلمة لتلاميذها : أعلم أنكم مجتهدون.
(أعلم) فعل مضارع مرفوع وفاعله :

(ب) أنكم .

(د) المعلمة .

(أ) مجتهدون .

(ج) ضمير مستتر .

٢٥- عندما كانت المعلمة تقيم قراءة التلاميذ وجدت أن بعضهم لا يميز بين صوتى (ذ - ز) وصوتى (ق - ك) :
هذا الخطأ يعنى عدم القدرة على التمييز بين الأصوات :

(ب) التى تنطق ولا تكتب والعكس .

(د) متباعدة المخرج .

(أ) متقاربة المخرج .

(ج) فى أول الكلمة وفى آخرها .

٢٦- " وف المدرسة حقها " .

(المدرسة) تعرب فى هذا السياق :

(ب) فاعلا .

(د) خبراً .

(أ) مفعولاً به .

(ج) اسماً مجروراً .

٢٧- الإجراءات والخطوات التى يستخدمها المعلم عند بداية دخوله إلى الموقف التعليمى تسمى مهارات
(أ) التخطيط للدرس .

(ب) تشخيص التعلم .

(د) استكشاف المفاهيم .

(ج) التمهيد للتدريس .

٢٨- يخرج الأصوات اللغوية من مخارجها الصحيحة .

- يميز نطقاً بين اللام الشمسية والقمرية .

- يعبر صوتياً عن المعانى .

- يوظف الإيماءات والإشارات وتعبيرات الوجه . هذه المهارات تنتمى إلى أحد فنون الأداء اللغوى هو

(ب) الكتابة .

(د) التحدث .

(أ) القراءة .

(ج) الاستماع .

٢٩- " المستوى الاقتصادى للأفراد فى الدول الغنية أعلى من مستواهم فى الدول النامية " .

(ب) فى الدول الغنية .

(د) للأفراد .

المستوى مبتدأ مرفوع، وخبره

(أ) الاقتصادى .

(ج) أعلى .

السيد السجراوي
01227012607

٣٠- " أراد المعلم أن يحفز تلاميذه لمعرفة أكبر عدد من الكلمات التي تكون ثلاثة أحرف، أو قراءة بعض الجمل بدون أخطاء، أو كتابة أفضل تعليق على صورة، أو تحديد أفضل أداء لدور إحدى الشخصيات في مسرحية ".
أى الاستراتيجيات التالية أكثر مناسبة لذلك ؟

- (أ) **التعلم التعاوني.**
(ب) التدريب والممارسة.
(ج) انظر وقل.
(د) المسابقات.

٣١- " قرأ الطلاب كتاب الأيام، وحلوا فصول الكتاب واستوعبوا معاني الكلمات ".
كلمات : الأيام، الكتاب، الكلمات تشترك جميعها فى كونها

- (أ) مفعولا به.
(ب) صفات.
(ج) مرفوعات.
(د) **مضافا إليه.**

٣٢- " فن من فنون الأداء اللغوى يقتضى معرفة الرموز اللغوية، والتمكن من مهارات التعرف، والنطق، والأداء الصوتى فضلا عن جميع مهارات إنتاج اللغة وتلقيها، من خلاله تتغلب على حواجز الزمان والمكان، ونمارسه فى كل وقت وفى كل مكان ".
هذا الفن هو

- (أ) الاستماع.
(ب) **التحدث.**
(ج) الكتابة.
(د) القراءة.

٣٣- لاحظ المعلم أن معظم تلاميذه يكتبون جملا ناقصة؛ فصمم لهم بعض الألعاب اللغوية التى تساعدهم على تكوين جمل صحيحة. ما فعله المعلم فى هذا الموقف

- (أ) صواب ؛ لأن جميع التلاميذ لديهم مشكلة.
(ب) خطأ ؛ لأن اللعب لا يعالج مشكلات.
(ج) **صواب ؛ لأن التلاميذ يحبون اللعب ويتعلمون منه أسرع.**
(د) خطأ ؛ لأن المشكلة أكبر من أن تعالج فى لعبة.

٣٤- إهمال الضبط النحوى، وعدم التوقف عند تمام المعنى، والخلط بين الأصوات متقاربة المخارج جميعها من الأخطاء الشائعة فى

- (أ) **القراءة الصامتة.**
(ب) القراءة الجهرية.
(ج) الكتابة الإبداعية.
(د) الكتابة الوظيفية.

٣٥- قالت المرأة لصديقتها : " إن كلبى حزين لفراقك تقصد (قلبى)؛ فقالت صديقتها : معقول !! لقد كان يهاجمنى كلما زرتك ".
- ما الخطأ الذى حدث فى الحوار بين الصديقتين ؟

- (أ) **أن المرأة أخرجت القاف من مخرج " الكاف " فتغير المعنى.**
(ب) أن صديقتها لا تفهم اللغة العربية جيداً.
(ج) أن المرأة كانت تعبر عن حالة كلبها بالفعل.
(د) أن صديقتها تعلم أنها لا تحبها فعلا.

٣٦- جميع ما يلى يمثل فروقا بين الصوت اللغوى والحرف ما عدا

- (أ) الصوت ينطق والحرف لا ينطق.
(ب) الصوت حيز فى الزمان والحرف حيز فى المكان.
(ج) الحرف عنوان على عدد من الأصوات.
(د) **الحرف عنصر من نظام الكتابة.**

٣٧- الخلط بين همزتى الوصل والقطع، والتاء المربوطة والتاء المفتوحة، من الأخطاء الشائعة فى

- (أ) التحدث.
(ب) القراءة الصامتة.
(ج) القراءة السريعة.
(د) **الكتابة.**

٣٨- " تقابل الرجال فتصافحوا؛ وهنا بعضهم بعضاً ". الواو فى (تصافحوا) تدل على

- (أ) الجمع والتذكير.
(ب) **الجمع والرفع.**
(ج) الجمع والخطاب.
(د) الجمع والحضور.

٣٩- " ذاك دروسك، واجتهد تنجح في حياتك " .
- في الجملة السابقة ثلاثة أفعال، فاعلها

- (أ) محذوف.
(ب) ظاهر.
(د) رباعي.
(ج) مستتر.

٤٠- " دخل المعلم الفصل ثم ألقى التحية، وهنا التلاميذ بالعام الجديد " .

- الكلمتان (ثم)، (ألقى) على الترتيب تدلان على :

- (أ) الاسمية، والمضى، والحضور، والغيبة.
(ب) الحرفية، والاسمية، والفعلية، والإفراد.
(ج) الاسمية، والفعلية، والحرفية، والتكثير.
(د) الحرفية، والفعلية، والمضى، والتكثير.

٤١- " قم في فم الدنيا وحى الأزهر " .

الوزن الصحيح لكلمة (قم) :

- (أ) فل.**
(ب) عل.
(د) عم.
(ج) فع.

٤٢- أثناء شرح درس القسمة، عرض المعلم المشكلة التالية : أرادت شركة سياحية نقل ٧٤١ سائحًا، فكم أتوبيسًا يلزم لذلك إذا كان كل أتوبيس لا يمكنه نقل سوى ٤٨ سائحًا ؟

- في هذه الحالة، كل مما يأتي يدعم التعلم النشط أثناء حل هذه المشكلة ما عدا

(أ) طرح أسئلة لتوضيح المشكلة وتحديد المطلوب.

- (ب) المساعدة في الربط بين الكلمات المفتاحية والعمليات الأساسية.
(ج) مناقشة التعبير عن السائحين وعدد الأتوبيسات في رسم تخطيطي.
(د) تعزيز التعبير عن كل من المعطيات والمطلوب بلغة أخرى.

٤٣- قسم مبلغ ٥٠ جنيهًا بين شخصين، بحيث يكون نصيب الأول $\frac{2}{3}$ نصيب الثاني.
كم يكون نصيب الأول ؟

- (أ) ١٠ .
(ب) ٢٠ .
(د) ٤٠ .
(ج) ٣٠ .

٤٤- يسمى نظام العد الذي نستخدمه بـ " النظام العشري " .

(أ) لأن أول عدد من أعداده ١٠ .

(ب) لأنه يستخدم العدد ١٠ أساسًا له .

(ج) لأنه يوجد به رمز مستقل للعدد ١٠ .

(د) لأن آخر عدد من أعداده ١٠ .

٤٥- ينتمي الجزء الأكبر من أهداف تعليم الرياضيات في المرحلة الابتدائية إلى مجالى

- (أ) الجبر والهندسة .**
(ب) الأعداد والهندسة .
(د) الهندسة وتحليل البيانات .
(ج) الأعداد والاحتمال .

٤٦- إذا طلبت من أحد تلاميذك طرح $1\frac{4}{5}$ من $2\frac{1}{5}$ فكانت إجابته $1\frac{3}{5}$.

- ما تفسيرك لخطأ التلميذ في هذه الحالة ؟

(أ) قام بعملية الطرح بدون توحيد المقامات .

(ب) رفع الكسر في المطروح والمطروح منه .

(ج) طرح العدد الأصغر من الأكبر والكسر الأصغر من الأكبر .

(د) طرح بسط الكسرين وجمع المقامين .

٤٧- إذا أقيمت مادة قابلة للاحتراق فى النار، ولاحظت النتيجة؛ فإن النتيجة تعبر عن

- (أ) حدث مؤكد .**
(ب) حدث مستحيل .
(د) حدث مستقل .
(ج) حدث بسيط .

السيد السحراوي
01227012607

٤٨- إذا كانت س، ص زاويتين متكاملتين، وكانت الزاوية ص ضعف الزاوية س، فما قيمة س ؟

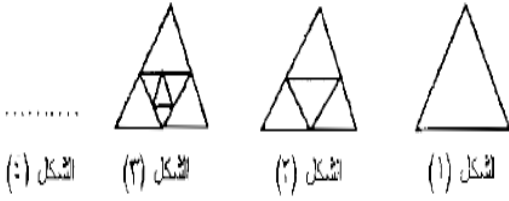
(ب) ٦٠ .

(د) ١٢٠ .

(أ) ٣٠ .

(ج) ٩٠ .

٤٩- الشكل الرابع في النمط التالي هو



(أ)

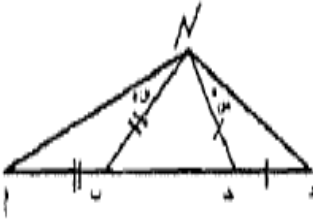
(ب)

(ج)

(د)

٥٠- في الشكل المرسوم ن ب = أ ب ، ن ج = ج د

ما قيمة > د ن أ ؟



(أ) س° + ص° - ٩٠ .

(ب) ١٨٠ - ٢ (س° + ص°) .

(ج) س° + ص° .

(د) ١٨٠ - (س° + ص°) .

٥١- ٧٢٥% تساوى

(ب) ٧،٤ .

(د) ٧٢،٥ .

(أ) ٧ $\frac{1}{4}$.

(ج) ٧٢ $\frac{1}{4}$.

٥٢- ترتبط عملية ضرب الأعداد الصحيحة بكل التعميمات الرياضية التالية ما عدا

(أ) عدد موجب × عدد سالب = عدد سالب .

(ب) أ × ب = ب × أ لكل عددين صحيحين أ ، ب .

(ج) أ × صفر = صفر × أ لكل عدد صحيح أ .

(د) ضرب بسط ومقام كسر فى عدد (≠ صفر) لا يغير من قيمته .

٥٣- العبارة " كل الزوايا القائمة متساوية " تمثل

(أ) تعريف .

(ج) نظرية .

(ب) مسلمة .

(د) خاصية .

٥٤- قطعة من الورق المقوى على شكل مستطيل أبعاده ٢٥سم، ٢٠سم يُراد عمل صندوق بدون غطاء، فقطع جزء



مربع الشكل من أطرافها (كما بالشكل) طول ضلعها ٥ سم، ما حجم الصندوق ؟

(ب) ٧٥٠ سم^٣ .

(د) ١٥٠٠ سم^٣ .

(أ) ٥٠٠ سم^٣ .

(ج) ١١٢٥ سم^٣ .

٥٥- دون الموجه الفنى بعد زيارته لأحد المعلمين وهو يشرح موضوع " شمسنا "، أن المعلم قد وجه أسئلة متعددة

للتلاميذ قبل الدرس وفى أثنائه وبعده، فإذا أراد الموجه أن يحدد نوع التقويم الذى اتبعه المعلم فى الحصة .

أى الأنواع التالية يكتب ؟

(ب) القبلى .

(د) الشامل .

(أ) البعدى .

(ج) البنائى .

٥٦- لاحظ أحد معلمى الفصل أن لدى تلاميذه خلطاً بين مفهوم التكاثر والنمو .

فأى المداخل التالية أنسب فى حل هذه المشكلة ؟

(ب) المدخل البصرى .

(د) مدخل التقويم الشامل .

(أ) مدخل التغيير المفاهيمى .

(ج) مدخل التجريب المعلمى .

السيد السمراوى
01227012607

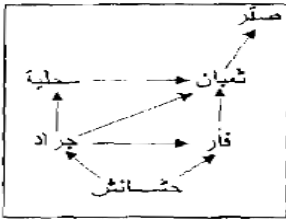
٥٧- في سلسلة الغذاء التالية، أي الكائنات الحية يتأثر بدرجة أكبر إذا اختفى الثعبان ؟

(أ) الحشائش والجراد .

(ب) الفأرة والسحلية .

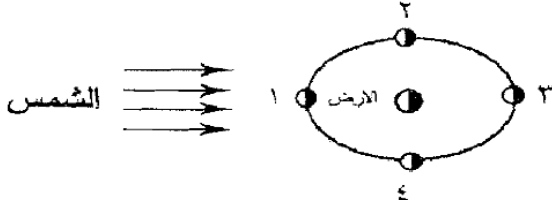
(ج) الصقر والحشائش .

(د) الجراد والسحلية .



٥٨- يوضح الشكل المقابل موضع الارض، وأربعة مواضع للقمر في أثناء دورانه في مداره حول الأرض.

من خلال الرسم، أي مواضع القمر حول الأرض يستعد فيه سكان الأرض لاستقبال شهر عربي جديد ؟ الموضع رقم :



(أ) (١) .

(ب) (٢) .

(ج) (٣) .

(د) (٤) .

٥٩- لاحظ بعض المزارعين أن بعض النباتات تنمو بشكل أفضل عندما تنثر كمية من أوراق الشجر القديمة المطحونة

حول جذورها؛ بماذا تزود أوراق الشجر المطحونة النبات؛ مما يجعله ينمو بشكل أفضل ؟

(أ) الطاقة .

(ب) الأملاح المعدنية .

(د) ثاني أكسيد الكربون .

(ج) الألياف .

٦٠- أي مما يلي يعد الدور الأساسي للأوراق الكبيرة التي تنمو على الأشجار في الغابة ؟

(أ) توفير الظل لجذور النباتات .

(ب) تعويض الأوراق التي تتلفها الحشرات .

(ج) التخلص من الماء الزائد الذي تمتصه الجذور .

(د) تجميع أكبر قدر من الضوء .

٦١- أهم أهداف تدريس الأنشطة العلمية للصفوف الثلاثة الأولى

(أ) تعرف بعض أنواع النباتات والمحاصيل .

(ب) تزويد المتعلمين ببعض المعلومات عن الأشياء غير الحية .

(ج) تعرف بعض الحيوانات في البيئة .

(د) تنمية بعض المهارات العقلية لدى المتعلمين .

٦٢- عثر أحد المزارعين على قطعة من مادة غير معلومة؛ اعتقد أنها من المعادن الثمينة، فذهب إلى الصانع فقام

الصانع بعد تنظيفها يتعين كتلتها فكانت (٥٢٥) جرام، ثم عين حجمها فكان (٥٠) سم^٣، وكان لدى الصانع البيانات

التالية عن بعض المعادن.

المعدن	الألومنيوم	النحاس	الفضة	الذهب
الكثافة(جرام/سم ^٣)	٢,٧	٨,٩	١٠,٥	١٩,٣

في ضوء الإجراءات التي قام بها الصانع، وما تجمع لديه من معلومات أي المعادن عثر عليها المزارع ؟

(أ) الألومنيوم .

(ب) النحاس .

(د) الذهب .

(ج) الفضة .

٦٣- سجلت الأرصاد الجوية درجات الحرارة خلال أربعة أيام في إحدى المدن موضحة بالجدول التالي :

متى كانت الرياح الأكثر برودة ؟

اليوم	الساعة	٦ صباحاً	٩ صباحاً	١٢ ظهراً	٣ بعد الظهر	٦ بعد الظهر
الأربعاء	١٥°م	١٧°م	٢٠°م	٢١°م	١٩°م	
الخميس	١٥°م	١٥°م	١٥°م	٥°م	٤°م	
الجمعة	٨°م	١٠°م	١٤°م	١٤°م	١٣°م	
السبت	٩°م	١٢°م	١٣°م	١٣°م	١٢°م	

(أ) الأربعاء صباحاً .

(ب) الخميس بعد الظهر .

(ج) الجمعة صباحاً .

(د) السبت بعد الظهر .

٦٤- يوضح الجدول التالي خصائص خمسة كواكب من كواكب المجموعة الشمسية مرتبة حسب بعدها عن الشمس.

الكوكب	التقطر (كيلومتر)	الوقت المستغرق في دوران الكوكب حول الشمس دورة واحدة (بأيام الأرض)	الوقت المستغرق في دوران الكوكب حول محوره دورة واحدة		الغلاف الجوي (الغازات السامة)	الوقت المستغرق في دوران الكوكب حول محوره دورة واحدة	ميل المحور (بالدرجة)	الكتلة (بالنسبة لكتلة الأرض)
			دقائق	ساعات				
عطارد	٤٨٨٠	٨٨	لا يوجد	٣٠	١٤٠٧	صفر	٠,٠٥	
الزهرة	١٢١٠٠	٢٢٤	ثاني أكسيد الكربون	-	٥٨٣٢	٣	٠,٨٢	
الأرض	١٢٧٥٣	٣٦٥	نيتروجين وأكسجين	٥٦	٢٣	٢٣	١	
المريخ	٦٧٩٤	٦٨٧	ثاني أكسيد الكربون	٤٧	٢٤	٢٥	٠,١	
المشتري	١٤٢٨٠	٤٣٤٦	هيدروجين وهيليوم	٥٥	٩	٣	٣١٨,٣٠	

من الجدول السابق أى الكواكب يكون له فصول مشابهة لفصول الأرض ؟
 (أ) عطارد.
 (ب) الزهرة.
 (ج) المريخ.
 (د) المشتري.

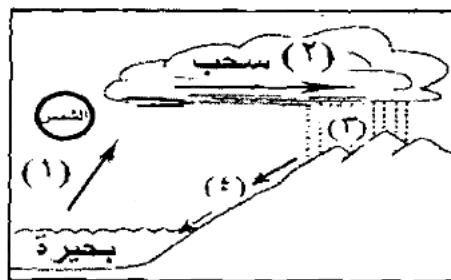
٦٥- حاول العالم " ألكسندر فلمنج " عام ١٩٢٨ أن يستنبط نوعاً معيناً من البكتيريا، وبالصدفة اكتشف أنها لا تنمو في وجود فطر يسمى " بنسيليوم "، وفي عام (١٩٣٩) استخلص العالمان " إيرست تشاين "، و" هوارد فلورى " البنسلين، وفي عام (١٩٤١) استخدم " البنسلين " لأول مرة في علاج الأمراض البكتيرية، وفي عام (١٩٤٥) حصل العلماء الثلاثة على جائزة نوبل في الطب لاكتشاف وفصل البنسلين.

أى مما يلى يمكن استخلاصه من الحقائق السابقة ؟
 (أ) استخدم " إيرست وهوارد " عمل " ألكسندر " ومن ثم لا يجب أن يحصلوا معه على جائزة نوبل.
 (ب) ليس للصدفة أى دور فى الاكتشافات العلمية.

(ج) **تضافر جهود العلماء يساعد خدمة المجتمعات.**
 (د) جائزة نوبل يمكن أن تعطى لأكثر من فرد إذا كان هناك ضرورة.

٦٦- فى تجربة لاختبار ما إذا كان معدل الرطوبة يوجد فى إزهار نبات القطن؛ أى البدائل التالية يعد العامل المستقل ؟
 (أ) عدد الأزهار على كل نبات.
 (ب) كمية الماء للرى.
 (ج) الفترة اللازمة للإزهار.
 (د) نسبة الرطوبة.

٦٧- يوضح الشكل التالى دورة الماء فى الطبيعة مدون عليه أربع مراحل (١) ، (٢) ، (٣) ، (٤) .



تكون قوى الترابط بين جزيئات الماء أقل ما يمكن فى المرحلة رقم
 (أ) (١) .
 (ب) (٢) .
 (ج) (٣) .
 (د) (٤) .

٦٨- الثأثة، والفأفة، والثأثة من العيوب الشائعة لدى الأطفال فى :
 (أ) القراءة الصامتة.

(ب) **التحدث.**
 (ج) المسائل اللفظية.
 (د) التنغيم الصوتى.

٦٩- " الأزهار تملأ الحديقة "

الإعراب الصحيح لهذه الجملة هو

(أ) الأزهار فاعل، و" تملأ " فعل مضارع مرفوع.

(ب) الأزهار مبتدأ، " تملأ الحديقة " جملة فعلية في محل رفع خبر.

(ج) الأزهار مبتدأ، و" تملأ " فعل مضارع مرفوع خبر.

(د) الأزهار مبتدأ، و" تملأ الحديقة " جملة فعلية في محل رفع صفة.

٧٠- من أهم أهداف تدريس الأنشطة التربوية في الصفوف الثلاثة الأولى :

(أ) إكساب التلميذ قدر من المعلومات العلمية.

(ب) تنمية قدرة التلميذ على التفاعل مع بيئته.

(ج) تدريب التلميذ على مهارة الرسم.

(د) تدريب التلميذ على بعض التمرينات الحركية.

٧١- في الشكل المقابل

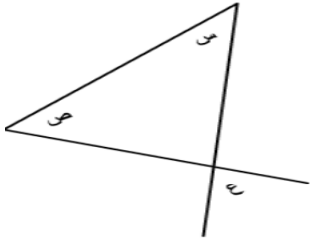
مجموع الزاويتين س، ص يساوي ...

(أ) ١٨٠ - ع .

(ب) ١٨٠ + ع .

(ج) ٤٢ .

(د) ع .



٧٢- " المعلمون أصحاب رسالة يجاهدون من أجل تبليغها "

في العبارة السابقة جملة فعلية ركنها هما

(أ) تبليغ، والهاء.

(ج) يجاهد، والمعلمون.

(ب) يجاهد، و واو الجماعة.

(د) المعلمون، وأصحاب.

٧٣- " وقفت التلميذة تردد النشيد "

كلمتا (وقفت) و(التلميذة) على الترتيب تدلان على

(أ) الفعلية، والتأنيث، والاسمية، والإفراد.

(ب) التأنيث، والحضور، والاسمية، والخطاب.

(ج) المضى، والتأنيث، والخطاب، والإفراد.

(د) الحضور، والفعلية، والخطاب، والتكثير.

٧٤- ثلث العدد $(\frac{1}{3})^2$ هو

(أ) $\frac{2}{3}$.

(ب) $3 - 3$.

(د) ٣ .

(ج) ١ .

٧٥- أراد المعلم تدريس موضوع " الأرناب والفيل " للصف الثالث الابتدائي فقرأ الدرس، ثم شرحه فقرة فقرة، ثم

كتب معاني الكلمات على السبورة.

- تسمى الاستراتيجية التي استخدمها المعلم في هذا الدرس

(ب) المناقشة.

(د) حل المشكلات.

(أ) الإلقاء.

(ج) المشروعات.

٧٦- اقرأ، ثم اختر الصواب فيما يلي :

- يملأ استمارة أو طلباً مقدماً لجهة ما .

- يكتب بيانات غلاف الخطاب .

- يكتب رسائل تحكى شيئاً لصديق أو قريب .

- ينقط الحروف بشكل صحيح .

المهارات السابقة تنتمي إلى أحد فنون الأداء اللغوي هو فن

(أ) القراءة.

(ب) التحدث.

(د) الاستماع.

(ج) الكتابة.

السيّد السحراوي
01227012607

- ٧٧- صندوق على شكل متوازي مستطيلات حجمه ٤٨٠ سم^٣، والنسبة بين بعدا قاعدته ٤ : ٣ :
 فإذا كان ارتفاع الصندوق ١٠ سم ؛ فإن مساحته الجانبية تساوي سم^٢.
 (أ) ١٤٠ .
 (ب) ٢٨٠ .
 (ج) ٢٠٠ .
 (د) ٤٠٠ .

٧٨- البيانات التالية تمثل مؤهلات أعضاء هيئة التدريس في أحد أقسام الجامعة.

المؤهل	دبلوم	بكالوريوس	ماجستير	دكتوراه
العدد	٢	٥	١٦	١٠

- إذا مثلت هذه البيانات بالقطاعات الدائرية فإن قياس الزاوية المركزية لقطاع الماجستير تقريباً هو :
 (أ) ١٠٩ .
 (ب) ٥٥ .
 (ج) ٩٨ .
 (د) ١٧٥ .

- ٧٩- بعد أن شرح المعلم موضوع (حروف الجر) رسم مربعاً كتب فيه عنوان الدرس، ثم رسم ثلاثة دوائر، وطلب من تلاميذه ملء هذه الدوائر ببعض حروف الجر، ووضع أسهم تشير إلى العلاقات بين العنوان وكل جرف يذكره التلاميذ :
 - أى الاستراتيجيات اتبعها المعلم ؟
 (أ) التعلم التعاوني .
 (ب) حل المشكلات .
 (ج) الخرائط العقلية .
 (د) المناقشة .

- ٨٠- مجموعة حل المتباينة $2 + 3 < 5$ في ط هي :
 (أ) { ٢ } .
 (ب) { ٤، ٣، ٢ } .
 (ج) { ١، ٢، ٣، ... } .
 (د) { ٢، ٣، ٤، ... } .

- ٨١- أكبر قيمة للعدد $(\frac{1-}{5})^s$ عندما $s = \dots$
 (أ) ٢ .
 (ب) ١ .
 (ج) ١ .
 (د) ٣ .

- ٨٢- أى مما يلى أكبر قيمة ؟
 (أ) ٣٢٢ .
 (ب) ١٦٧ .
 (ج) ٤^{١٥} .
 (د) ١١٨ .

- ٨٣- إياه أقصد . (إياه) تعرب ضمير منفصل مبنى على
 (أ) الضم .
 (ب) (ب) السكون .
 (ج) فتح مقدر .
 (د) (د) الفتح .

- ٨٤- حرف السين من أصوات
 (أ) الاستعلاء .
 (ب) (ب) الجهر .
 (ج) الإطباق .
 (د) الهمس .

- ٨٥- إذا كانت قياسات الزوايا الخارجة عن المثلث على النمط ٣س، ٤س، ٥س .
 فإن قياسات الزوايا الداخلة للمثلث هي :
 (أ) ٥٤٠ ، ٥٥٠ ، ٥٩٠ .
 (ب) ٥٣٠ ، ٥٦٠ ، ٥٩٠ .
 (ج) ٥٧٠ ، ٥٦٠ ، ٥٥٠ .
 (د) ٥٤٥ ، ٥٤٥ ، ٥٩٠ .

- ٨٦- " يا علياء افرحى بنجاحك وتفوقك " .
 نوع الياء في (افرحى) ضمير
 (أ) منفصل مبنى على السكون .
 (ب) متصل مبنى على السكون .
 (ج) منفصل مبنى على الضم .
 (د) متصل مبنى على الفتح .

السيّد السجراوي
 01227012607

٨٧- " يحب الجندي وطنه حباً شديداً " .

كلمة (حباً) تعرب

(أ) مفعولاً مطلقاً .

(ج) مفعولاً لأجله .

(ب) ظرفاً .

(د) مفعولاً به .

٨٨- إذا كان متوسط الأعداد : ١١ ، ٦ ، ٤ ، س يساوي منوال هذه الأعداد فإن س تساوي :

(أ) ٧ .

(ب) ٦ .

(د) ٥ .

(ج) ٨ .

٨٩- العامل المشترك الأعلى للأعداد : ٤٢ ، ٧٧ ، ٩٨ ، ١٠٥ هو :

(أ) ٦ .

(ب) ١١ .

(د) ٥ .

(ج) ٧ .

٩٠- اختر الصواب :

- عدم تركيز الانتباه، والتحول عن مصدر الصوت، والعجز عن متابعته، والنسيان السريع.
جميعها من مشكلات تعليم

(أ) الاستماع .

(ب) التعبير الملحمي .

(د) التحدث .

(ج) القراءة الإبداعية .

٩١- قال تعالى : " إنما يستجيب الذين يسمعون والموتى بيعتهم الله ثم إليه يرجعون " .

الوقف عند كلمة (يسمعون) وقف :

(أ) جائز .

(ب) مستحب .

(د) لازم .

(ج) مكروه .

٩٢- " فن من فنون الأداء اللغوي ويعد وسيلة من وسائل الاتصال التي بواسطتها يمكن للإنسان أن يعبر عن فكره وأن يقف على فكر غيره، ويمكنه أن يبرز ما لديه من معان ومفاهيم، ومن ثم فهو فن مهم في العملية التعليمية وضرورة مهمة لنقل الفكر والتعبير عنها " .

هذا الفن هو

(أ) القراءة .

(ب) الكتابة .

(د) الكلام (التعبير الشفوي) .

(ج) الاستماع .

٩٣- يبين الشكل التالي العلاقة بين الثمن والكميات المطلوبة من سلعة ما :

أي مما يلي يوضح هذا الشكل ؟

(أ) نزاييد الثمن بزيادة المطلوب .

(ب) الثمن يقل بمعدل ثابت .

(ج) انخفاض الثمن بزيادة المطلوب .

(د) الثمن ثابت بتغير المطلوب .

٩٤- صندوق على شكل متوازي مستطيلات أبعاده ٨٠ سم، ١٢٠ سم، ٦٤ سم يراد تعبئته بقطع من الصابون على شكل مكعب طول حرفه ٨ سم؛ فإن عدد الصابون الذي يمكن تعبئته في الصندوق يساوي :

(أ) ١٨٥٦ .

(ب) ٢٦٤ .

(د) ٣٢٨ .

(ج) ١٢٠٠ .

٩٥- " الحديقة أزهارها منسقة " . أوجد المبتدأ في الجملة :

(أ) الحديقة .

(ب) أزهارها .

(د) منسقة .

(ج) أزهارها منسقة .

٩٦- عندما تجد تلميذاً يعرض عن المشاركة في التحدث خجلاً؛ فإن التصرف المناسب في هذا الموقف يتطلب :

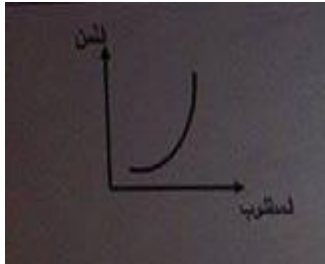
(أ) تخطط له أنشطة شفوية جماعية .

(ب) تبعده عن مواقف التحدث .

(د) تعنفه كي يشارك بإيجابية .

(ج) تعاتب والديه .

السيّد السمرّاوي
01227012607



٩٧- الخلط بين الألف اللينة والياء. أخطاء شائعة فى :

- (أ) القراءة.
(ب) التحدث.
(ج) الكتابة.
(د) الاستماع.

٩٨- الفعل (عدّ) الدال فى الكلمة يدل على :

- (أ) إدغام.
(ب) قفلة.
(ج) غنة.
(د) إعلال.

٩٩- عندما تتعرض أصوات العلة لتغييرات بطول بعضها محل بعض فى كلمة ما. فنسمى هذه الظاهرة الصوتية :

- (أ) وقفاً.
(ب) إقلاباً.
(ج) قلباً.
(د) إعلالاً.

١٠٠- " كسا الربيع أرض القرية خضرة جميلة " .

- الفعل (كسا) متعدٍ لمفعولين هما :
(أ) الربيع، خضرة.
(ب) أرض، جميلة.
(ج) أرض، خضرة.
(د) الربيع، قرية.

١٠١- الخلط بين كتابة التاء المربوطة والهاء المربوطة من الأخطاء الشائعة فى :

- (أ) الإملاء.
(ب) القراءة.
(ج) التحدث.
(د) الاستماع.

١٠٢- " عملنا الواجب فكوفنا على عملنا " .

- تمثل (نا الفاعلين) على الترتيب :
(أ) رفع، ونصب، وجر.
(ب) نصب، وجر، ورفع.
(ج) جر، ورفع، ونصب.
(د) رفع، ورفع، وجر.

١٠٣- " علّمت الطالب فتعلم، وهذبتته فتهذب " .

- الوزن (تفعل) فى الجملة السابقة يدل على :
(أ) المطاوعة.
(ب) المشاركة.
(ج) الطلب.
(د) المبالغة.

١٠٤- " شمّر الطالب عن ساعده، وقطب جبينه، وفتّش عن الصور البيانية فى الفصل " .

- الفعل على وزن (فعل) يدل على :
(أ) المطاوعة.
(ب) المشاركة.
(ج) الطلب.
(د) المبالغة.

١٠٥- " شرب اللبن " . الفاعل فى هذه الجملة :

- (أ) ضمير بارز.
(ب) ضمير مستتر.
(ج) ضمير منفصل.
(د) اللبن.

١٠٦- " باع الحمار جحا " . كلمة (جحا) تعرب :

- (أ) فاعل مرفوع ، علامة رفعه الضمة المقدرة.
(ب) مفعول به منصوب، وعلامة نصبه الفتحة.
(ج) فاعل مرفوع ، وعلامة رفعه الألف.
(د) فاعل مرفوع، علامة رفعه الضمة.

١٠٧- اللغة العربية لغة متناسقة؛ لأنها لا تجمع بين :

- (أ) ساكن وساكن.
(ب) متحرك وساكن.
(ج) متحرك ومتحرك.
(د) ساكن ومتحرك.

١٠٨- كلمة (تعيلب) وزنها الصرفى

- (أ) فويلع.
(ب) فعيلل.
(ج) تفيعل.
(د) تفلعل.

01227012607
السيدي السحراوي

- ١٠٩- " المعلمون المتفوقون محبوبون " .
الشكل الصحيح لهذه الجملة بعد إدخال (لكن) عليها :
(أ) لكن المعلمون المتفوقين محبوبون .
(ب) لكن المعلمين المتفوقين محبوبون .
(ج) لكن المعلمون المتفوقين محبوبين .
(د) لكن المعلمون المتفوقون محبوبون .

- ١١٠- يقوم الطالب بتكرار الكلام عند القراءة :
(أ) إضافة .
(ج) إبدال .
(ب) تكرار .
(د) نقل .

- ١١١- تغيير صوت مكان صوت يسمى
(أ) إبدال .
(ج) نقل .
(ب) حذف .
(د) تكرار .

- ١١٢- (أمرته) . كم ضمير في الكلمة :
(أ) واحد .
(ج) ثلاثة .
(ب) اثنان .
(د) لا يوجد .

- ١١٣- " نجحت التلميذتان " - " قرأت الدرس " .
(ان) ، (ت) في التلميذتين وقرأت على الترتيب تدلان على :
(أ) التأنيث والتثنية .
(ج) التثنية والتأنيث .
(ب) التثنية والفاعلية .
(د) الاسمية والتأنيث .

- ١١٤- ع النصيحة . (ع) على وزن :
(أ) عل .
(ج) ف .
(ب) فل .
(د) ع .

- ١١٥- " المرء بأصغريه قلبه ولسانه " . حذففت النون من الكلمة لـ :
(أ) الإضافة .
(ج) التنوين .
(ب) العرض .
(د) الإدغام .

- ١١٦- عند تدريس درس " الأرنب الصغير " طلبت المعلمة من تلميذ أن يقوم بتمثيل أحد الأدوار .
هذه الاستراتيجية تسمى :
(أ) التعلم التعاوني .
(ب) لعب الأدوار .
(ج) الحوار والمناقشة .
(د) حل المشكلات .

- ١١٧- " لا لا أبوح بحب بثينة " . إذا وصلنا كلمات الشطر الأول :
(أ) خطأ؛ لأن (لا) الأولى نافية، و(لا) الثانية توكيد .
(ب) خطأ؛ لأن (لا) الأولى نافية، و(لا) الثانية مستأنفة .
(ج) صحيح؛ لأن التنغيم الموسيقي صحيح .
(د) صحيح؛ لأن العروض والقافية صحيحة .

- ١١٨- الكلمات التي تأتي على بنية (مفاعلة) تدل على :
(أ) المشاركة .
(ج) الاضطراب .
(ب) التكثير .
(د) المبالغة .

- ١١٩- " تشرق الشمس صباح كل يوم " . الفاعل في الجملة السابقة :
(أ) الشمس .
(ج) صباح .
(ب) مستتر .
(د) كل .

١٢٠- " الإسكندرية منارة العلم " . (منارة العلم) خبر :

(أ) جملة اسمية .

(ب) جملة فعلية .

(د) شبه جملة .

(ج) مفرد .

١٢١- إذا كان المنوال للقيم : ١٢ ، ٨ ، ١٢ ، ١⁺ ، ٨ ، هو ١٢ فإن قيمة س تساوى :

(ب) ١٣ .

(د) ١٢ .

(أ) ١١ .

(ج) ١ .

١٢٢- اكتشاف المعلم بعض الأخطاء فى فن (الاستماع الناقد) لدى تلاميذه .

يعالجه المعلم بتقديم تمرينات فى

(ب) التصنيف .

(د) تنفيذ التعليمات .

(أ) مؤشرات السياق .

(ج) العرض الزمنى .

١٢٣- مجموعة أعداد متتالية أصغرها (٢٧-) ومجموعتها ٢٨؛ فإن عددها =

(ب) ٢٨ .

(د) ٥٥ .

(أ) ٥٦ .

(ج) ٢٧ .

١٢٤- كم تبلغ قياس الزاوية بين عقارب الساعة " الدقائق والساعات " عندما تكون الساعة الثالثة والرابع تماماً ؟

(ب) $3 \frac{1}{4}$.

(د) ٣٠ .

(أ) صفر .

(ج) ٣ .

١٢٥- " الثروة حلم يراود كل محتاج " . كلمتا (الثروة، حلم) يشتركان فى :

(ب) التذكير .

(د) الاسمية .

(أ) التعريف .

(ج) التذكير .

١٢٦- " اشتريت خمس كراسات " . كلمة (كراسات) تعرب :

(ب) مفعول به .

(د) نعت .

(أ) مضاف إليه .

(ج) تمييز .

١٢٧- " تعنى الدولة بتعمير الصحراء " . نوع الهمزة فى صحراء :

(ب) زائدة للتأنيث .

(د) منقلبة عن أصل .

(أ) أصلية .

(ج) مقصورة .

١٢٨- " القطن مبيع بأسعار مرتفعة " . كلمة (مبيع) على وزن :

(ب) مفعول .

(د) مفعول .

(أ) مفعول .

(ج) معيل .

١٢٩- أخطأ الطالب فى تعرف معنى كلمة (الحرية) فقال : العبودية، وكلمة (بأتى) فقال : يذهب .

القصور هنا فى :

(ب) التمييز بين المرادف والمرادف .

(د) التمييز بين المضاد والمضاد .

(أ) التمييز بين المرادف والمضاد .

(ج) التمييز بين الاسم والفعل .

١٣٠- التردد والخوف أثناء الكلام، وعدم نطق الكلمات بوضوح، وعدم تغيير الصوت بما يناسب المعنى .

جميع ما سبق من الأخطاء الشائعة فى

(ب) التحدث .

(د) القراءة الصامتة .

(أ) القراءة الناقدة .

(ج) القراءة .

١٣١- إياك والكذب . (إياك) فى الجملة السابقة، تعرب :

(أ) ضمير منفصل فى محل رفع .

(ب) ضمير منفصل فى محل نصب .

(ج) ضمير متصل فى محل نصب .

(د) ضمير منفصل فى محل جر .

١٣٢- عند إلقاء حجر نرد مرتين؛ فما احتمال ظهور عددين مجموعهما ١٣ ؟

- (أ) $\frac{13}{36}$.
(ب) $\frac{1}{3}$.
(ج) $\frac{1}{36}$.
(د) **صفر .**

١٣٣- اقرأ، ثم اختر الصواب فيما يلي :

- يستنتج العلاقات بين الفكر.
- يحدد معاني الكلمات من السياق.
- يميز بين الحقيقة والخيال.
- يميز بين الحقيقة والرأى.
المهارات السابقة تنتمي إلى أحد فنون الأداء اللغوى هو فن
(أ) **القراءة.**
(ب) التحدث.
(ج) الكتابة.
(د) الاستماع.

١٣٤- ٢س + ٣ ، ٣س - ٢، ٢س + ٥ ثلاثة أعداد طبيعية متتالية تمثل أطوالاً لأضلاع مثلث فإن محيط المثلث يساوى وحدة طول.

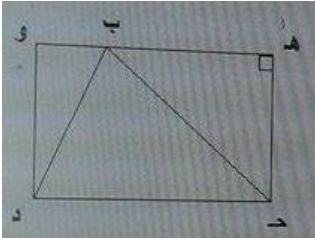
- (أ) ٧٣ .
(ب) ٥٥ .
(ج) ٦٧ .
(د) **٤٨ .**

١٣٥- إذا كان ٢س - ٣م = ٤ فإن قيمة م عندما س = ٥ هي :

- (أ) **٢ .**
(ب) ١ .
(ج) ٤ .
(د) ٣ .

١٣٦- الفرق بين حجمى متوازى مستطيلات ومكعب هو ٥ سم^٣؛ فإذا كانت النسبة بين حجميهما على الترتيب ٢ : ٥ فإن حجم المكعب يساوى سم^٣ .

- (أ) **٧٥ .**
(ب) ٣٠ .
(ج) ٩٠ .
(د) ١٨ .



١٣٧- فى الشكل المقابل :
مساحة المثلث ب ج د = ١٢ سم^٢، ج د = ٦ سم، المثلث ج ه ب متساوى الساقين؛
فإن مساحة المثلث ب د و تساوى سم^٢ .

- (أ) **٣٦ .**
(ب) ١٨ .
(ج) ١٤ .
(د)

١٣٨- القيمة المكانية للرقم ٩ فى العدد ١٧،٥٩١٣ هي :

- (أ) تسعة أجزاء من ألف .
(ب) جزء من مائة .
(ج) **تسعة أجزاء من مائة .**
(د) جزء من عشرة .

١٣٩- نوع الخبر فى جملة : " الحديقة أشجارها مثمرة " :

- (أ) مفرد .
(ب) جملة فعلية .
(ج) **جملة اسمية .**
(د) شبه جملة .

١٤٠- " إن المهندسون المصريون سباقين " . الصواب فى هذه الجملة أن تكتب كما يلى :

- (أ) إن المهندسين المصريين سباقون .
(ب) إن المهندسين المصريين سباقين .
(ج) **إن المهندسين المصريين سباقون .**
(د) إن المهندسون المصريين سباقين .

١٤١- " قدمت الطيبة العلاج للمريض " .
كلمتا (قدمت) و (الطيبة) على الترتيب تدلان على :

(أ) الفعلية، والتأنيث، والاسمية، والإفراد.

(ب) التأنيث، والفعلية، والخطاب، والتكثير .

(ج) التأنيث، والحضور، والاسمية، والخطاب .

(د) المضى، والتأنيث، والخطاب، والإفراد .

١٤٢- كلمة (اجتماعات) كلمة :

(أ) خماسية المقطع.

(ج) سداسية المقطع.

(ب) ثلاثية المقطع.

(د) رباعية المقطع.

١٤٣- في لعبة الهدف والسهم كان الهدف على شكل مربع قسم إلى المناطق الستة وطلب من الرامى أن يطلق السهم على الهدف دون أن يقع فى منطقة مظلمة.


- فإن احتمال أن يقع السهم فى المناطق المظلمة يساوى

(أ) $\frac{1}{3}$.

(ج) $\frac{5}{28}$.

(ب) $\frac{13}{28}$.

(د) $\frac{4}{9}$.




١٤٤- يوضح الشكل المقابل العلاقة بين إنتاج مصنع السيارات والأعوام؛ فإذا كان إنتاجه فى العام الخامس يساوى مجموع إنتاجه فى الثلاث أعوام الأولى، وإنتاج العام السادس يساوى إنتاج العامين الرابع والخامس. فإن إنتاج المصنع فى العام السادس يساوى سيارة.

(أ)

(ب)

(ج)

(د)



١٤٥- إذا كان (س) عدد نسبي موجب، فأى العبارات الآتية صحيحة ؟

(أ) $\frac{1}{2} + س > س > س + \frac{1}{4}$.

(ب) $س > س + \frac{1}{4} > س + \frac{1}{3}$.

(ج) $س > س + \frac{1}{3} > س + \frac{1}{4}$.

(د) $س + \frac{1}{2} > س + \frac{1}{3} > س > س$.

١٤٦- شكل (١) إناء على شكل متوازى مستطيلات به كمية من الماء.

صُب هذا الماء فى وعاء على شكل مكعب فملؤه تماماً شكل (٢)

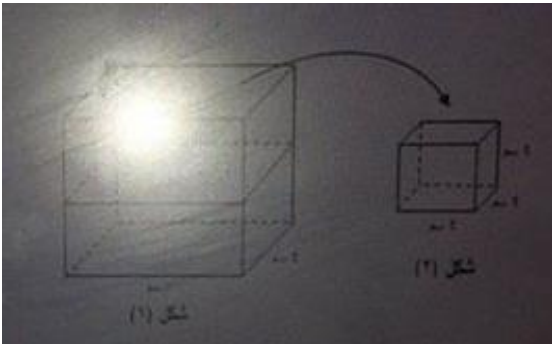
فإن ارتفاع الماء فى شكل (١) قبل الصب يساوى سم.

(أ)

(ب)

(ج)

(د)



١٤٧- الشكل الذى أمامك متوازيات مستطيلات من الزجاج الشفاف كل منها بدون

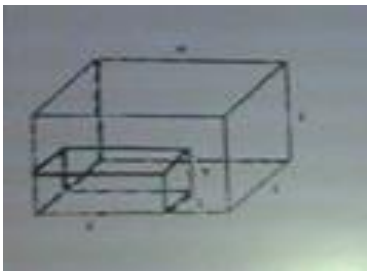
غطاء؛ فإن النسبة بين مساحتيهما تساوى :

(أ)

(ب) ١٨ : ٥

(ج)

(د)



١٤٨- الكلمات التي تأتي على بنية (فاعل) تدل على : من

- (أ) قام بالفعل بكثرة (اتصف بالفعل مطلقاً) .
(ب) وقع عليه الفعل .
(ج) اضطر لفعل شيء ما .
(د) قام بالفعل أو اتصف به.

١٤٩- " اجتهد في طلب العلم " .

الصيغة الصرفية (افتعل) في الجملة السابقة تدل على :

- (أ) المشاركة .
(ب) الطلب.
(ج) المطاوعة .
(د) المبالغة .

١٥٠- في الشكل المقابل :

نافذة من مثلث متساوي الأضلاع أسفله مربع، فإذا كان محيط المثلث ٣،٧٥ م فإن مساحة المربع لأقرب جزء من المائة من المتر تساوي م .



(أ)

(ب) ١،٥٦.

(ج)

(د)

١٥١- نظام العد العشري يبدأ من :

- (أ) ٩/٠.
(ب) ١٠/١ .
(ج) ١٠/٠ .
(د) ٩/١ .

١٥٢- التمييز بين آل الشمسية وآل القمرية يندرج تحت فن :

- (أ) التحدث .
(ب) القراءة .
(ج) الإملاء.
(د) الاستماع .

١٥٣- مجموعة أعداد العد :

- (أ) ٠، ١، ٢، ٣ .
(ب) ١، ٢، ٣، ٤، ٥، ...
(ج) ٠، ١، ٢، ٣ .
(د) ١، ٢، ٣ .

١٥٤- العامل المشترك الأعلى للأعداد : ٩٠، ٧٢، ١٠٢، ٣٦ هو :

- (أ) ٦ .
(ب) ٣ .
(ج) ٩ .
(د) ٢ .

١٥٥- العدد ١٠٣٥ خانة الصفر قيمتها المكانية :

- (أ) ١٠٠ .
(ب) مئات .
(ج) ألوف .
(د) لا قيمة لها .

١٥٦- مصنع لإنتاج المربى والمشمش يمتد إنتاجه لمدة عشر سنوات، وهناك رسم بياني يبين تزايد المربى والمشمش لكن المشمش أقل . في أي سنة سوف يتساوى المشمش والمربى .

- (أ) ٢٠١٥ .
(ب) ٢٠١٦ .
(ج) ٢٠١٧ .
(د) ٢٠١٨ .

١٥٧- الخلط بين الألف اللينة وهمزة القطع والوصل. أخطاء شائعة في :

- (أ) القراءة .
(ب) التحدث .
(ج) الكتابة.
(د) الاستماع .

١٥٨- تغلب الطالب على نفسه وأخرج النص الصحيح فيما معناه، الفعل (تغلب) يفيد :

- (أ) المطاوعة.
(ب) المشاركة .
(ج) المناقشة .
(د) المبالغة .

السيّد السجراوي
01227012607

١٥٩- س + ص = ٣٠ وس < ٨ لذلك :

(ب) ص = ٢٢ .

(د) ص = ٩ .

(أ) ص < ٢٢ .

(ج) ص > ٢٢ .

١٦٠- بدأ ثلاثة متسابقين الجرى من نقطة واحدة في مضمار، فإذا كان الأول يدور حول المضمار في ٤ دقائق، والثاني في ٥ دقائق، والثالث في ٦ دقائق، بعد كم دقيقة يتقابل المتسابقون ؟

(ب) ١٥ دقيقة .

(د) ٦٠ دقيقة .

(أ) ٣٠ دقيقة .

(ج) ٢٤ دقيقة .

السيد السحراوي

01227012607

Elsayed Ahmed Elsehrawy

sayed18.8.18@gmail.com

Port Said

01227012607